

"به نام خدا"

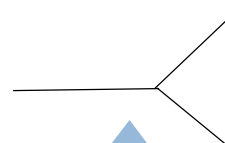
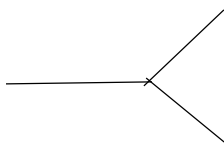
نام و نام خانوادگی: <آموزش و پرورش شهرستان گلوگاه> آزمون مداد کاغذی درس: ریاضی

پایه: دوم دبستان *دبستان دخترانه غیر دولتی گل یاس* تاریخ: ۱۴۰۰/۱۰/۲۰

آموزگار: خانم قلعه سری سال تحصیلی: ۱۴۰۰-۱۴۰۱ مدت آزمون: ۶۰ دقیقه

۱- دخترم! همه ی عددهای دو رقمی که می توان با رقم های ۵،۳ برای یکان و ۴،۶ برای دهگان نوشت را بنویسید.

دهگان	یکان



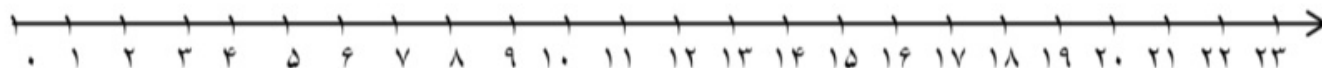
۲- عزیزم! الگوهای عددی زیر را ادامه دهید.

۳-۷-۱۱-.....-.....-.....-.....-.....

۲-۵-۹-۱۴-.....-.....-.....-.....-.....

۳- در یک اتوبوس ۱۴ نفر نشسته اند. در ایستگاه بعدی ۷ نفر دیگر سوار اتوبوس شدند و در ایستگاه بعد ۵ نفر از اتوبوس پیاده شدند. حالا چند نفر در اتوبوس نشسته اند؟ (به کمک محور)

.....



۴- با کارت های ۴،۰،۶ تمام عددهای سه رقمی را بسازید و بنویسید.

.....

نام و نام خانوادگی:

دبستان دخترانه غیردولتی گل یاس

پایه: دوم دبستان

آموزگار: خانم قلعه سری

آزمون مداد کاغذی درس: ریاضی

دی ماه ۱۴۰۰

۵- نازنینم! حاصل جمع و تفریق های زیر را پیدا کنید.

$$20 + 10 + 5 + 10 + 5 + 6 + 20 =$$

$$50 + 40 = \dots\dots$$

$$70 + 20 = \dots\dots$$

۸۲

۶۱

۷۶

(به روش)

-۳۶

+۸۲

-۲۳

(قارچی)

۶- شباهت و تفاوت های دو شکل زیر را بنویسید.



تفاوت:



شباهت:

۷- کلم! جمع و تفریق های زیر را به صورت تقریبی حل کن.

$$74 \longrightarrow \dots\dots$$

$$55 \longrightarrow \dots\dots$$

$$\underline{-43} \longrightarrow \underline{-\dots\dots}$$

$$\underline{+28} \longrightarrow \underline{+\dots\dots}$$

نام و نام خانوادگی:

دبستان دخترانه غیردولتی گل یاس

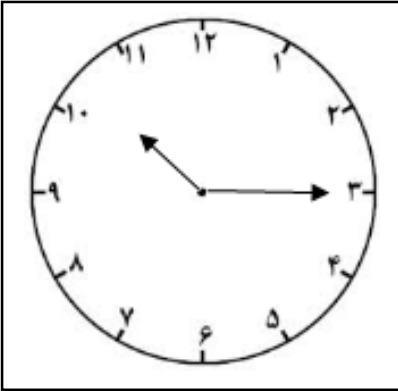
پایه: دوم دبستان

آموزگار: خانم قلعه سری

آزمون مداد کاغذی درس: ریاضی

دی ماه ۱۴۰۰

۸- دلبندم! زمانی را که ساعت رو به رو نشان می دهد، را به دو صورت بنویسید. و به سوالات پاسخ دهید.



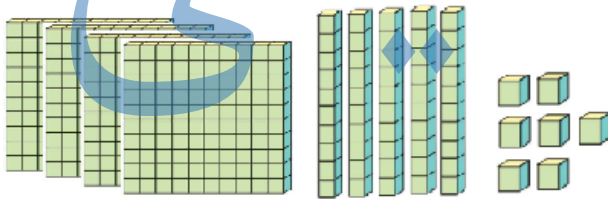
..... :

.....

الف) یک ربع بعد چه ساعتی است؟

ب) اگر ساعت ۸:۰۰ باشد، یک ساعت و ربع دیگر ساعت چند است؟


۹- جدول را کامل کنید و به عدد و حروف بنویسید.



صدگان	دهگان	یکان

به عدد:

به حروف:



صدگان	دهگان	یکان

به عدد:

به حروف:

باز خورد معلم برای من:

موفق باشید - قلعه سری

"به نام خدا"

پاسخ نامه سوال ها
<آموزش و پرورش شهرستان گلوگاه> آزمون مداد کاغذی درس: ریاضی
پایه: دوم دبستان *دبستان دخترانه غیردولتی گل یاس*
آموزگار: خانم قلعه سری
سال تحصیلی: ۱۴۰۰-۱۴۰۱
مدت آزمون: ۶۰ دقیقه

پاسخ سوال ۱:

۴۳ - ۴۵ - ۶۳ - ۶۵

پاسخ سوال ۲:

۳-۷-۱۱-۱۵-۱۹-۲۳-۲۷-۳۱-۳۵

۲-۵-۹-۱۴-۲۰-۲۷-۳۵-۴۴-۵۴.

پاسخ سوال ۳:

$$۱۴+۷-۵=۱۶$$

۱۶ نفر در اتوبوس نشسته اند.

پاسخ سوال ۴:

۴۰۶ - ۴۶۰ - ۶۰۴ - ۶۴۰

پاسخ سوال ۵:

$$۲۰+۱۰+۵+۱۰+۵+۶+۲۰=۷۶$$

$$۵۰+۴۰=۹۰$$

$$۷۰+۲۰=۹۰$$

$$\begin{array}{r} ۸۲ \\ -۳۶ \\ \hline ۵۲ \\ -۶ \\ \hline ۴۶ \end{array}$$

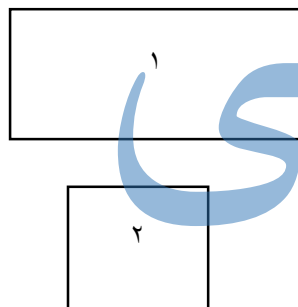
$$\begin{array}{r} ۶۱ \\ +۲۲ \\ \hline ۸۱ \\ +۲ \\ \hline ۸۳ \end{array}$$

$$\begin{array}{r} ۷۶ \\ -۲۳ \\ \hline ۵۶ \\ -۲ \\ \hline ۵۳ \end{array}$$

(به روش

قارچی)

پاسخ سوال ۶:



تفاوت: در شکل ۲، همه ی ضلع ها با هم برابر هستند، اما در شکل ۱ ضلع های
رو به رو دو به دو با هم برابرند.

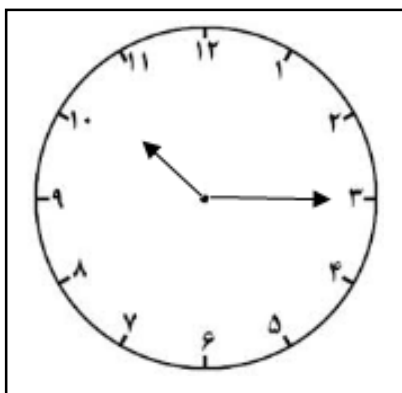
شباهت: هر دو شکل ۴ ضلع و ۴ گوشه دارند.

پاسخ سوال ۷:

$$\begin{array}{r} ۷۴ \longrightarrow ۷۰ \\ -۴۳ \longrightarrow -۴۰ \\ \hline ۳۰ \end{array}$$

$$\begin{array}{r} ۵۵ \longrightarrow ۶۰ \\ +۲۸ \longrightarrow +۳۰ \\ \hline ۹۰ \end{array}$$

پاسخ سوال ۸ :



۱۰:۱۵

ساعت ده و ربع است.

الف) ده ونیم

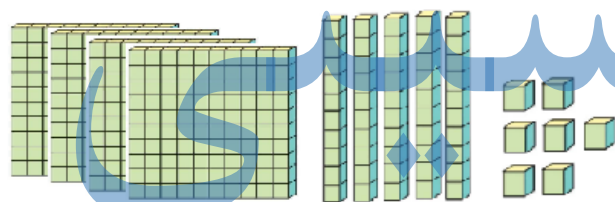
ب) ۹:۱۵ یا نه و ربع

پاسخ سوال ۹ :


به عدد: ۴۵۷

به حروف: چهار صد و پنجاه

و هفت



یکان	دهگان	صدگان



یکان	دهگان	صدگان

به عدد:

به حروف:

۲۳۴

دویست و سی و چهار

موفق باشید- قلعه سری